

Les nombres → 100.

1. Complete les cases.

1	2	3	4	5	6	7	8	9	10
									20
									30
									40
									50
									60
									70
									80
									90
									100

2. Barre l'intrus.

94	95	96	99
----	----	----	----

23	28	29	30
----	----	----	----

81	82	83	86	85
----	----	----	----	----

62	63	67	65	66
----	----	----	----	----

45	46	47	48	49	60
----	----	----	----	----	----

21
31
81
51
61
71

58
38
78
88
98

3. Place les nombres proposés dans le tableau.

16	27	72	81	99
----	----	----	----	----

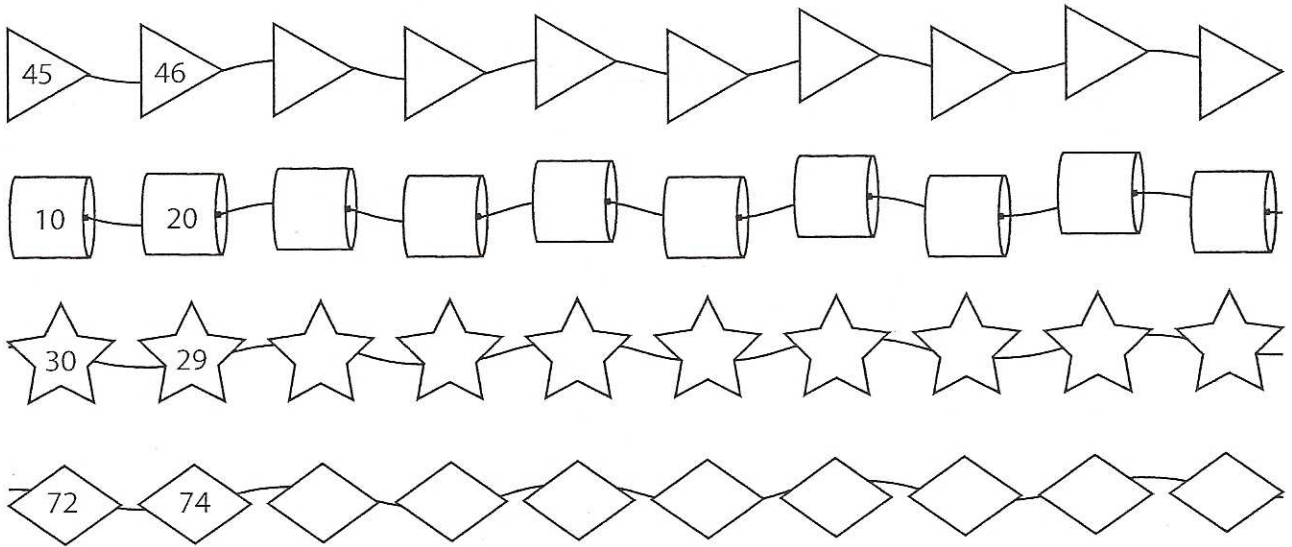
1									
									100

4. Complete le tableau.

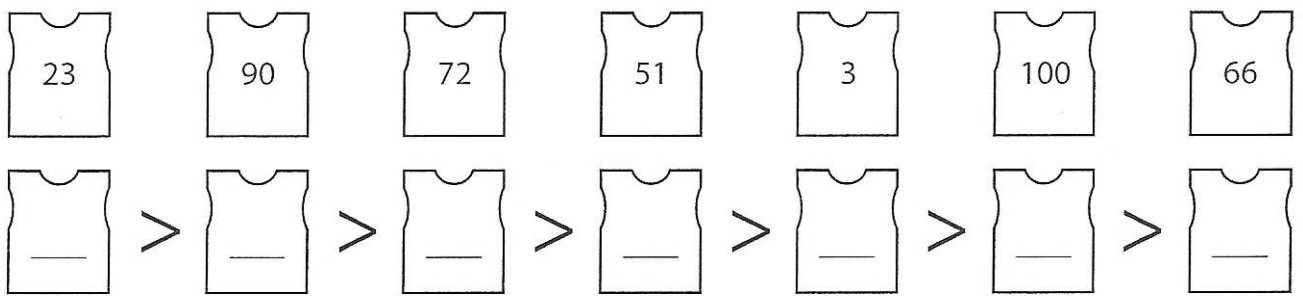
-2		+2
	18	
	27	
	41	
	69	
	80	



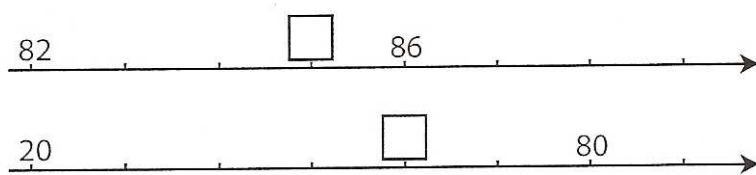
5. Complète les colliers de perles.



6. Range ces nombres par ordre décroissant (↘).

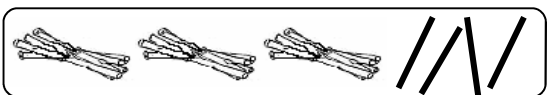


7. Colorie la case qui correspond au nombre manquant.



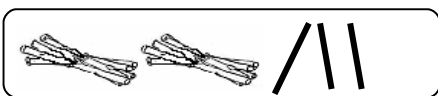
- 83
- 84
- 85
- 50
- 60
- 70

8. Relie les égalités.



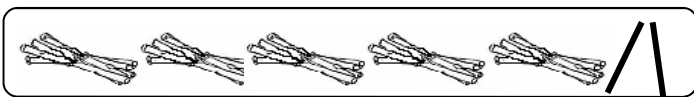
52

vingt-trois



43

trente-quatre



23

cinquante-deux



34

quarante-trois