


Prénom:


Situations-problèmes: contrôle 3 (Utiliser la bonne clé)

Place sur les pointillés de l'énoncé un prénom de la classe. Lis ensuite le problème.
Puis entoure la clé (+ - x ou ÷) que tu vas utiliser pour résoudre chaque problème. Enfin,
trouve la solution en respectant ce schéma > 1 _____ X (..... ) = _____

1. L'anniversaire :  + - x ÷ /2

..... a acheté pour ses invités 7 gâteaux à 2 € le gâteau.
Combien a-t-elle / il payé ?

1 _____ X (.....) = _____ /3

2. Au restaurant :  + - x ÷ /2


..... a choisi le menu à 27 € et le menu à 16 €.
Quelle sera l'addition finale ?

1 _____ X (.....) = _____ /3

3. Dans ma chambre :  + - x ÷ /2

..... a invité 3 amis. Il y a 32 briques Lego dans la boîte. Il / elle les
partage équitablement entre eux.
Combien auront-ils de briques chacun ?

1 _____ X (.....) = _____ /3

4. Dans la cour :  + - x ÷ /2

..... a 74 billes. Il / elle en a perdu 15 contre
Combien en a-t-il /elle encore dans son sac ?

1 _____ X (.....) = _____ /3

