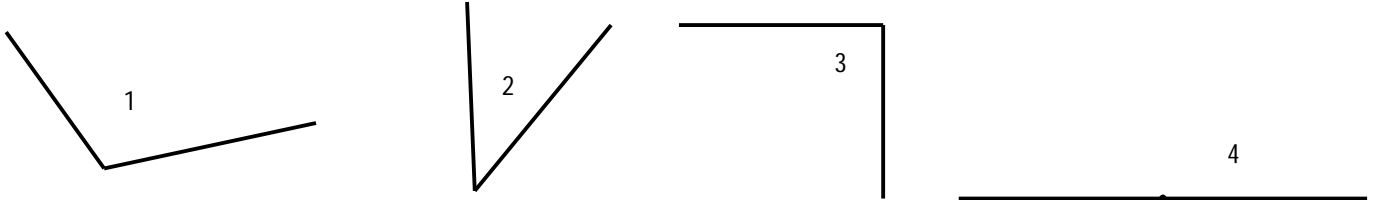


Mesure des angles

Contrôle

1. Indique le numéro des angles dans le tableau.

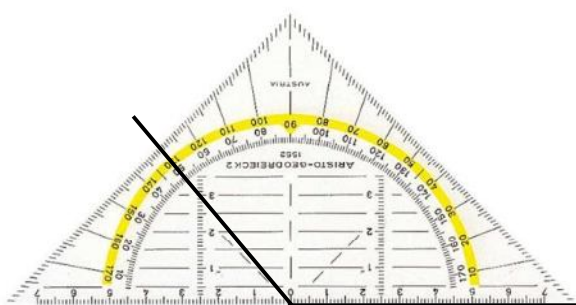


Angle obtus	Angle droit	Angle plat	Angle aigu

2. Vrai ou faux.

Un angle aigu mesure toujours 90° .	
L'angle droit est plus petit que l'angle aigu.	
L'angle obtus mesure toujours moins que 90° .	
angle aigu < angle droit < angle obtus	
Un angle obtus peut mesurer 91° .	
Un angle aigu est toujours inférieur à 90° .	

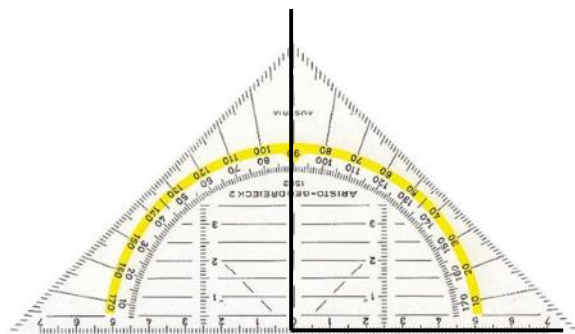
3. Complète les informations demandées.



Il s'agit d'un angle

_____.

Il mesure _____.



Il s'agit d'un angle

_____.

Il mesure _____.

4. Mesure ces angles.

