

1. Emblème de la ville

Lg-doc 1.

Observez le blason traditionnel de Liège et le nouvel emblème adopté par la ville en janvier 2007. Tous deux (ainsi d'ailleurs que le logo de l'ISL) font référence à un monument historique célèbre.

Quel est ce monument issu du Moyen Âge ?

Où se trouve-t-il ?

Quelle était sa fonction dans le passé ?

.....

Quel bâtiment du XVIII^{ème} siècle, surnommé la « Violette », est tout proche sur la même place ?

.....

2. Le cœur historique de la cité

Lg-doc 1 à 8.

2.1

1. À quelle époque situe-t-on l'occupation humaine la plus lointaine du site de l'actuelle place Saint-Lambert ?

.....

2. Cette présence humaine a été nomade avant de devenir sédentaire. Opposez nomadisme et sédentarité en complétant le tableau ci-dessous :

	NOMADISME	SÉDENTARITÉ
Définitions		
Époques		
Styles de vie		

2.2

Quels vestiges datant de la fin du 1er siècle de notre ère, retrouvés dans le sous-sol de l'actuelle place Saint-Lambert, cette rubrique concerne-t-elle ? Quelle tranche d'histoire nous rappellent-ils ?

.....

.....

.....
.....



1. Quel peuple s'est installé dans nos régions au VI^{ème} siècle ? D'où provient-il ?

.....
.....

2. D'après les documents de cette rubrique, décrivez le site de l'actuelle place Saint-Lambert au VI^{ème} siècle, au début du Moyen Âge.

.....
.....
.....
.....



Lisez attentivement cet extrait de bande dessinée, puis résumez les origines religieuses de la ville de Liège :

.....
.....
.....
.....
.....



Qui a été Notger au X^{ème} siècle ? Pourquoi a-t-il été un personnage essentiel dans l'histoire de Liège ?

.....
.....
.....
.....
.....



1. Quels événements ont marqué l'histoire de la principauté de Liège à l'extrême fin du XVIII^{ème} siècle ?

a)

.....

b)

.....

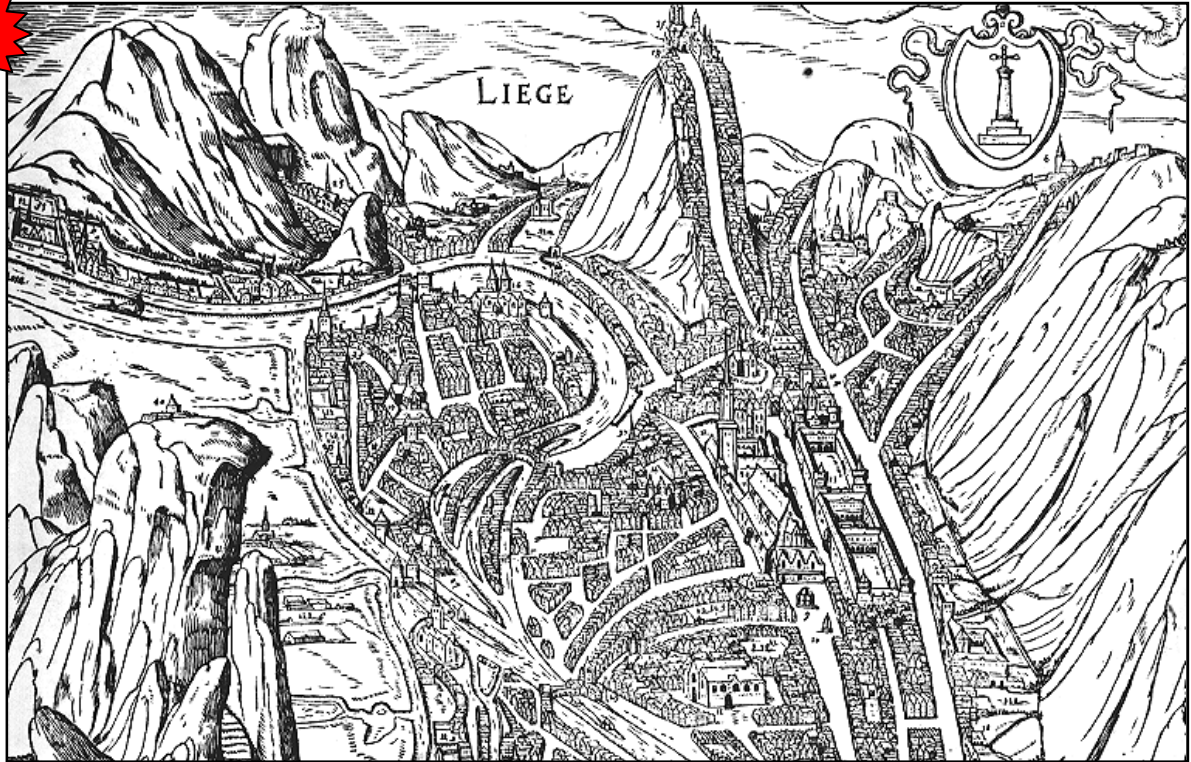
2. Quel dommage architectural important ces événements ont-ils occasionné au patrimoine liégeois ? Pourquoi a-t-on démoli cet édifice ?

.....
.....

3. Représentations anciennes de Liège

Lg-doc 8 à 11.

3.1



Comparez cette gravure de 1467 et la carte actuelle ci-contre (Google Maps).

Sur la vue ancienne :

1. Identifiez les bras de la Meuse en les coloriant en bleu.
2. Marquez de petites croix le tracé du bras de la Meuse qui, asséché au XIX^{ème} siècle, est devenu le boulevard de la Sauvenière.
3. Dans le passé, le quartier de l'actuelle cathédrale Saint-Paul était en fait une île, avec des ponts pour y accéder. Citez deux rues qui rappellent ces temps lointains :

.....

Créez une légende pour identifier l'emplacement de ces anciens ponts.

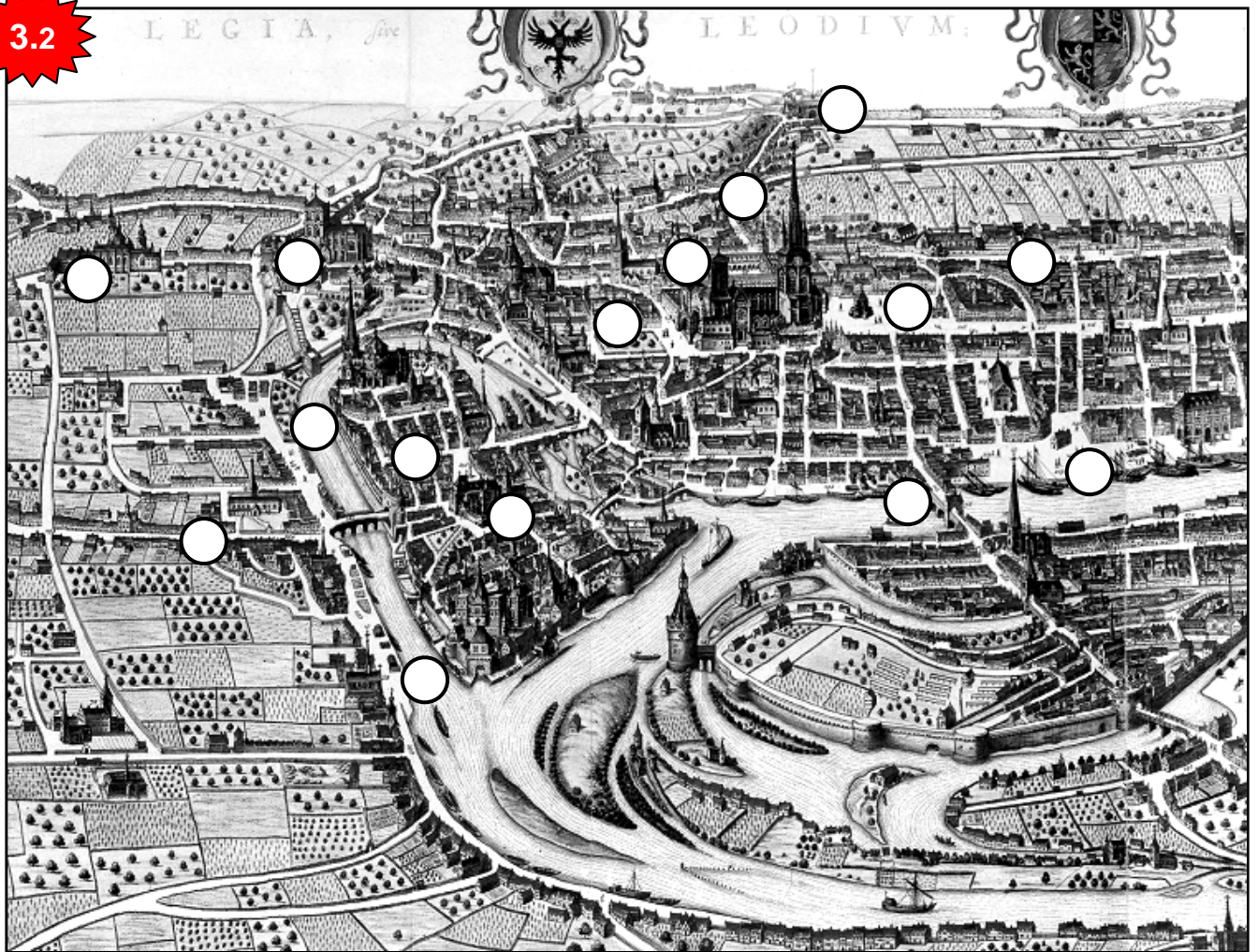
4. Inscrivez les lettres PSL à l'endroit où vous situeriez l'actuelle place Saint-Lambert. À l'époque, s'agissait-il vraiment d'une place ?

.....
.....

5. Le relief représenté par le cartographe de l'époque correspond-il à la réalité ?

.....
.....

6. On appelle le Publémont la colline où se situent la basilique Saint-Martin et notre école. Écrivez ce nom au sommet du relief concerné.



Comparez cette gravure de 1649 et la carte actuelle ci-contre (Google Maps).

Sur la vue ancienne ci-dessus, tracez une croix à l'emplacement de l'actuelle place Saint-Lambert, puis inscrivez, dans les cercles, les numéros correspondant à ces endroits actuels :

- | | |
|--|---|
| 1. Le boulevard de la Sauvenière. | 9. La place du Marché et le perron. |
| 2. Le boulevard d'Avroy. | 10. La Batte. |
| 3. La basilique Saint-Martin. | 11. La place de la cathédrale (Saint-Paul). |
| 4. La rue Saint-Gilles. | 12. Le pont des Arches. |
| 5. L'hôpital de la Citadelle. | 13. Le palais des princes-évêques. |
| 6. Le domaine militaire Saint-Laurent (3 CRI). | 14. Le Carré. |
| 7. L'îlot Saint-Michel. | 15. La rue Hors-Château. |
| 8. La rue Pierreuse. | |

Marquez du sigle ISL l'endroit où vous situeriez notre école si elle avait existé à cette époque.

3.3 et 4

1. Comment une ville, au Moyen Âge, se défendait-elle des attaques extérieures ?

.....

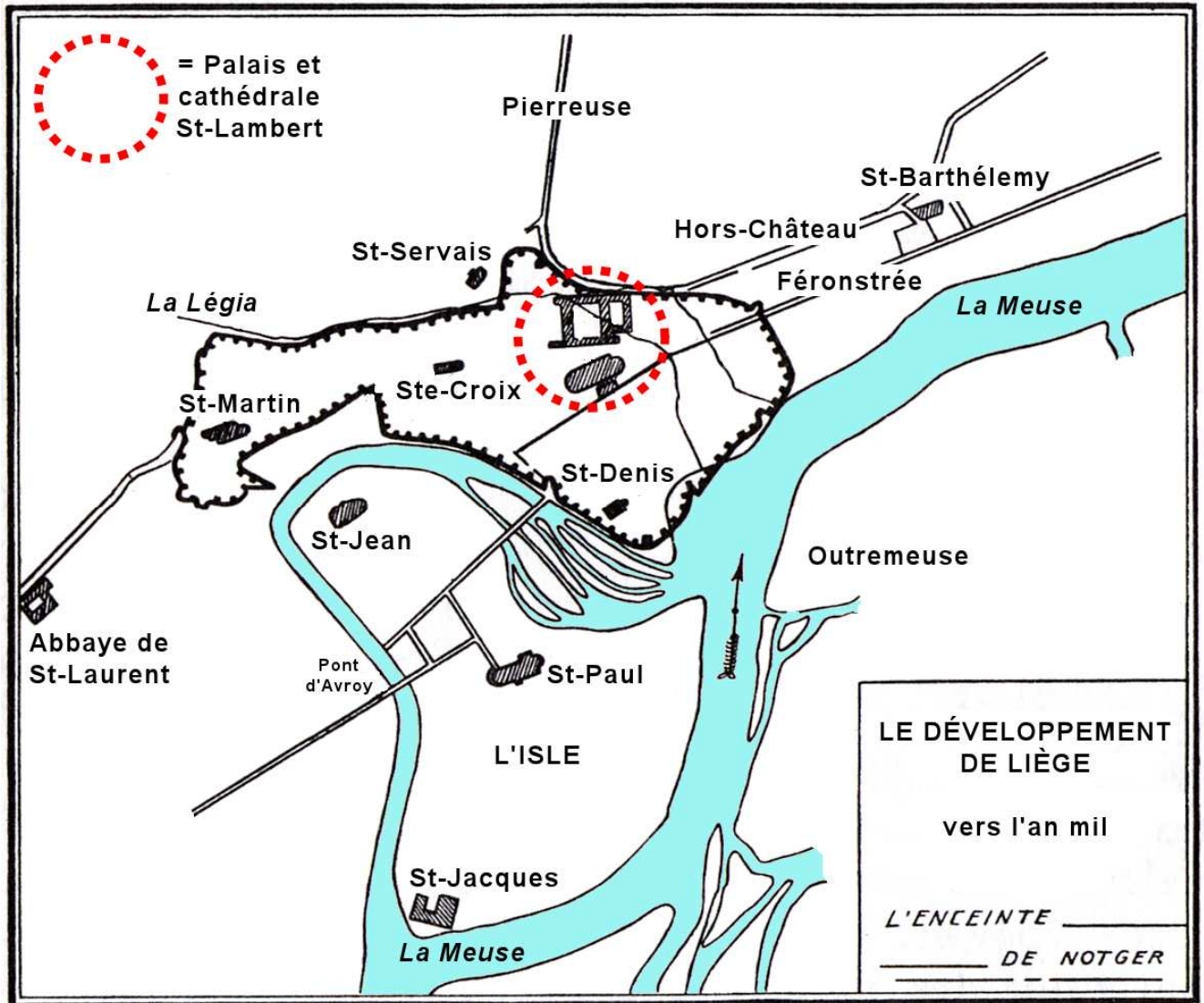
2. Dans le cas de Liège, rappelez quel personnage (en mentionnant son époque et ses fonctions) a été à l'origine de pareils moyens de défense :

.....

3. Justifiez le nom de la rue Hors-Château :

.....
.....

4. Sur ce dessin :



a) Tracez un rectangle pour délimiter l'endroit où vous situeriez la reconstitution du XI^{ème} siècle figurant au bas de la page Lg-doc 9.

b) Tracez une croix pour indiquer l'emplacement de l'ancienne porte fortifiée que vous voyez en haut à gauche de la page Lg-doc 10.

c) Tracez une flèche indiquant l'actuel boulevard de la Sauvenière.

d) Hachurez discrètement les zones où vous situeriez les coteaux de la Citadelle (aidez-vous des textes du bas de la page Lg-doc 10).

5. Quel type de culture, aujourd'hui disparu, pratiquait-on jadis sur ces coteaux exposés plein sud ?

.....
.....

6. Pourquoi l'hôpital de la Citadelle, à Sainte-Walburge, porte-t-il ce nom ?

.....
.....



3.5

1. Quelle est la plus ancienne place du centre-ville ? Quel rôle jouait-elle aux origines ?

.....
.....
.....

2. Justifiez la création d'une « batte » dès le milieu du XVI^{ème} siècle.

.....
.....
.....

3. Qu'est devenue la Batte de nos jours ?

.....
.....

4. Sur le plan de la page précédente, imaginez une légende pour représenter le pont des Arches et la Batte, inexistants à l'époque.

4. L'urbanisme conquérant du XIX^{ème} siècle

Lg-doc 11 à 16.



4.1 à 3

1. Au cours du XIX^{ème} siècle, la ville de Liège a connu d'importants travaux qui ont totalement modifié son apparence. Citez-en les principaux.

.....
.....
.....
.....
.....
.....
.....

2. Quels ont été les buts poursuivis en entreprenant ces travaux d'envergure ?

.....
.....
.....
.....

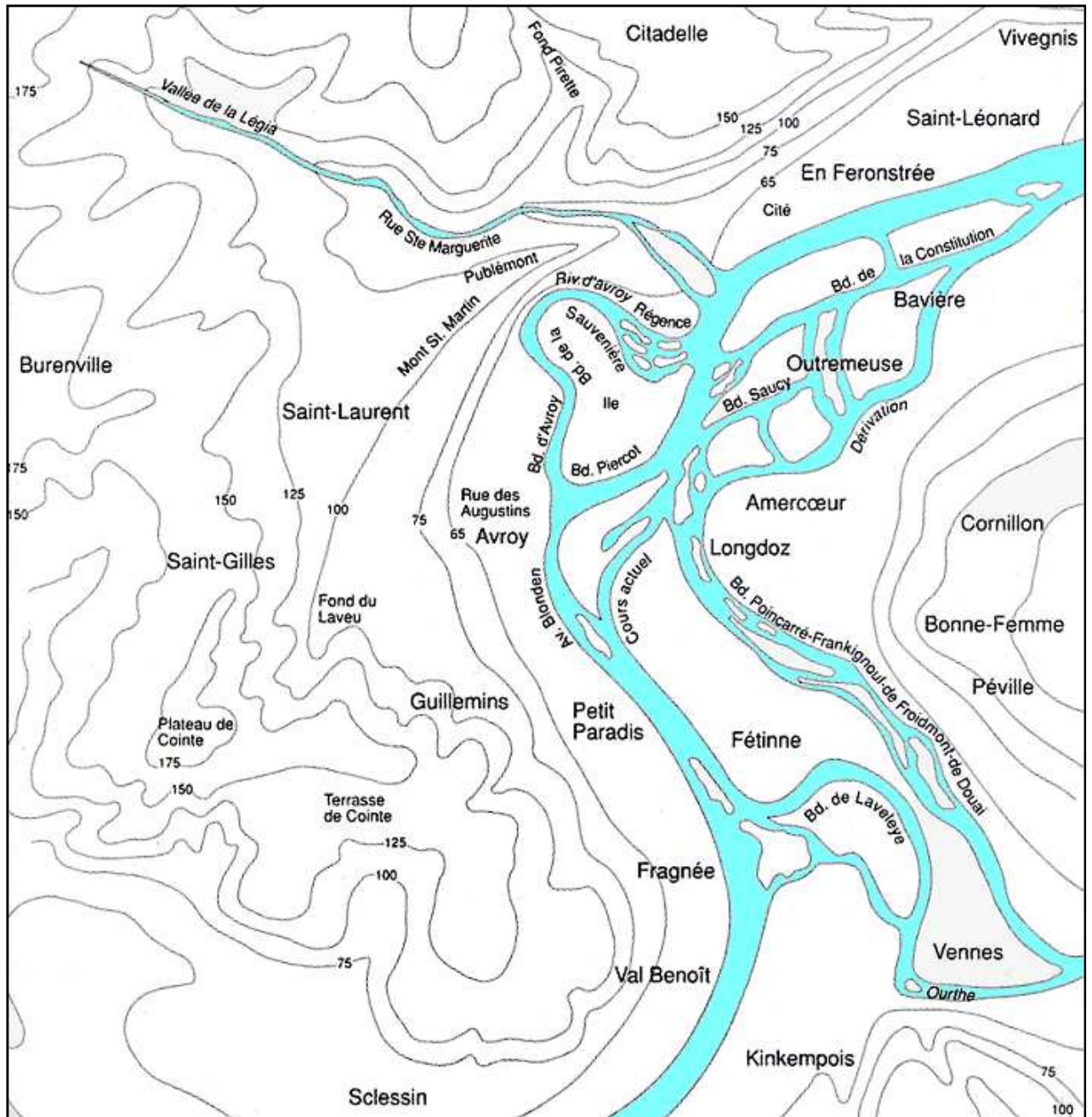
3. Comment expliquer que Liège, à l'époque, a été capable de financer de pareilles réalisations ?

.....
.....

4. Ces travaux gigantesques ont concerné la Meuse et l'Ourthe : un fleuve et une rivière. Expliquez la différence.

.....

5. Le plan de la page suivante présente les bras de la Meuse et de l'Ourthe au début du XIX^{ème} siècle. Coloriez le tracé que ces cours d'eau suivent de nos jours, en vous aidant de la carte actuelle qui figure en regard.



6. Après observation des photos des pages Lg-doc 14 et 15, pourquoi peut-on dire que la place Saint-Lambert, dans la seconde partie du XIX^{ème} siècle, est véritablement devenue le centre de la ville ?

.....

.....

.....

.....

.....

.....

.....

.....



1. Comment les autorités liégeoises, au tout début du XXème siècle, ont-elles voulu montrer au monde la splendeur de leur ville ?

.....
.....

2. Citez deux constructions remarquables qui nous sont restées de cette manifestation grandiose.

.....
.....

5. La fin du XX^{ème} siècle

Lg-doc 17 et 18.

1. Quelles erreurs urbanistiques a-t-on commises à Liège dans les années 1960-70 ?

.....
.....
.....

2. Pourquoi la population de Liège a-t-elle considérablement baissé à la fin du XX^{ème} siècle ?

.....
.....

3. Pourquoi a-t-on parlé, pendant plus de trente ans, de la saga de la place Saint-Lambert ?

.....
.....
.....

4. Dans l'aménagement final de la place Saint-Lambert, comment les autorités liégeoises espèrent-elles rendre l'hypercentre plus attractif ?

.....
.....
.....
.....

Exercices complémentaires

1. Comparez ces deux vues, la première de 1919, la seconde de 2007 :



(Cf. notes personnelles sur la feuille de gauche).

2. Sur cette photographie aérienne (2006) due à la société Globalview, situez les endroits suivants :

1. la cité administrative
2. le Cadran
3. le pont des Arches
4. le pont Maghin (ou Saint-Léonard)
5. Outremeuse (Saint-Pholien)
6. le palais de justice
7. le pont Atlas
8. La gare du Palais
9. La rue Léopold
10. l'église Saint-Servais
11. l'hôtel de ville (la Violette)
12. Droixhe
13. l'îlot Saint-Michel
14. Pierreuse
15. l'église Saint-Barthélemy (Féronstrée)
16. la place du Marché
17. Les coteaux de la Citadelle
18. les travaux d'extension du palais de justice (2x)
19. l'église Sainte-Croix
20. la rue de Bruxelles

