

Nom : .....

Date : ..... / ..... / .....

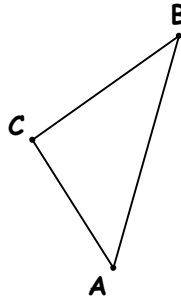
Prénom : .....

Classe : .....

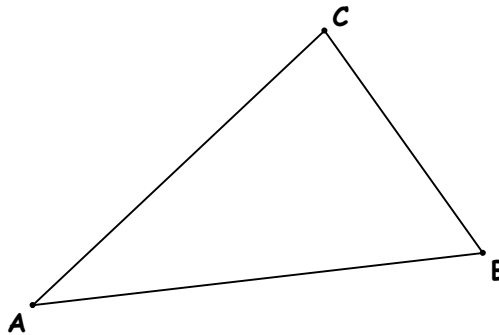
/10

## Les droites remarquables d'un triangle : Devoir

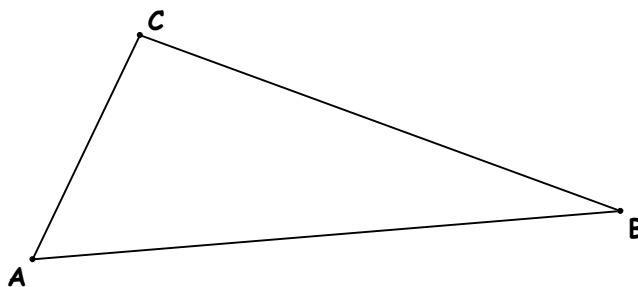
1) Trace les 3 médiatrices de ce triangle puis construis le cercle circonscrit à ce triangle :



2) Trace les 3 hauteurs de ce triangle et place l'orthocentre :



3) Trace les 3 bissectrices de ce triangle puis construis le cercle inscrit à ce triangle :



4) Trace les 3 médianes de ce triangle et place le centre de gravité :

