

EDM : Séquence 6

Habiter des milieux ruraux proches et lointains



[http ;//6habitats6milieux.com](http://6habitats6milieux.com)

Tâche :

- 1) Ton meilleur ami vient de rentrer de son tour du monde. Il n'a pas manqué de réaliser des clichés photographiques et a décidé de tous les imprimer. Lorsqu'il a été les rechercher, le photographe n'a pas fait attention et à tout mélanger ! Aide ton meilleur ami à replacer les clichés sur un planisphère.
- 2) Pour ce faire, par groupe de 4, vous analyserez un milieu donné et vous le présenterez à la classe (localisation, type d'habitat, matériaux de construction, atouts/contraintes).

Milieus étudiés : Poupehan, Cambodge, Namibie, Haute-Savoie ET Suède

Savoirs structurés	Savoir-faire exercés
<ul style="list-style-type: none">▪ Belgique : hydrographie▪ Belgique : relief et régions naturelles▪ Monde : repères géographiques▪ Les climats	<ul style="list-style-type: none">▪ Identifier les formes de reliefs▪ Analyser un climatogramme▪ Présenter un travail

Ce que je dois faire ...

Tâche 1 :

-
-
-

Tâche 2 :

-
-
-

I. Introduction

Tu disposes des photos de ton meilleur ami. Comme il souhaiterait replacer les photos sur un planisphère, coche les hypothèses qui te sembleraient plausibles.

	Hypothèses de localisation	Pourquoi ?
Photo 1	<ul style="list-style-type: none"><input type="radio"/> Milieu froid<input type="radio"/> Milieu chaud<input type="radio"/> Milieu humide<input type="radio"/> Milieu sec
Photo 2	<ul style="list-style-type: none"><input type="radio"/> Milieu froid<input type="radio"/> Milieu chaud<input type="radio"/> Milieu humide<input type="radio"/> Milieu sec
Photo 3	<ul style="list-style-type: none"><input type="radio"/> Milieu froid<input type="radio"/> Milieu chaud<input type="radio"/> Milieu humide<input type="radio"/> Milieu sec
Photo 4	<ul style="list-style-type: none"><input type="radio"/> Milieu froid<input type="radio"/> Milieu chaud<input type="radio"/> Milieu humide<input type="radio"/> Milieu sec
Photo 5	<ul style="list-style-type: none"><input type="radio"/> Milieu froid<input type="radio"/> Milieu chaud<input type="radio"/> Milieu humide<input type="radio"/> Milieu sec

II. Localisation des milieux

a) A l'aide des documents de ton atlas (Fiche savoirs « Les grands repères géographiques ») :

- Hachure les continents en employant une légende
- Mets en évidence l'équateur
- Replaces : le tropique du Cancer, le tropique du Capricorne, le cercle polaire Arctique sur la carte
- Complète les différentes zones climatiques

b. Replaces les différents milieux ruraux étudiés sur le planisphère à la page suivante.

Utilise la légende suivante :

1. Cambodge
2. Namibie
3. Suède
4. Haute-Savoie
5. Poupehan
6. Touaregs
7. Torajas

Blank box for labeling the first region.

Blank box for labeling the second region.

Blank box for labeling the third region.

Blank box for labeling the fourth region.

Blank box for labeling the first region.

Blank box for labeling the second region.

Blank box for labeling the third region.



0 4 000 km
à l'Équateur

III. Analyse des milieux

a) Le cas de Poupehan

1. Localisation

Doc. 1 : Carte du relief de la Belgique Doc.2 :

Traces



<http://www.res-sources.be/FR/pub/cyberclasse/provinces/lux/luxembourg.gif>

- Donne un titre au document 2.
- Localise Poupehan
- Repasse en bleu le réseau hydrographique de Poupehan.

2. Décris la situation géographique de Poupehan (général au particulier)

-
-
-
-
-
-
-

3. Y a-t-il des aléas d'inondations à Poupehan ? Justifie à l'aide des documents.

	Oui	Non
Numéro des documents		
Justifications

4. Quels éléments naturels sont responsables de cet aléa ?

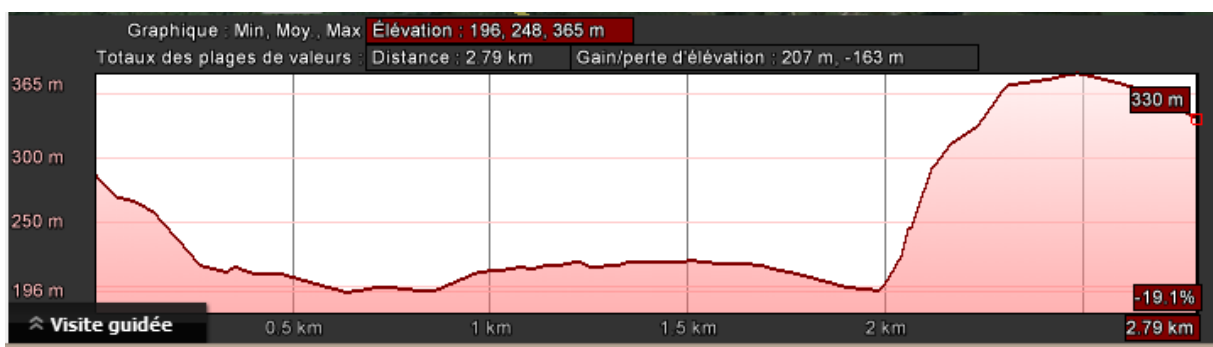
→

→

5. Entoure sur ton document 5 les trois premiers mois ayant les précipitations les plus élevées.

6. Replace à l'aide d'une croix de couleur sur le profil altimétrique:

- le village de Poupehan (croix verte)
- la Semois (croix bleue)
- le camping de Poupehan



7. Complète la fiche de l'habitat n°1 et localise l'habitat en page 5.

Habitat n°1

Localisation

Ville ou région :

Pays :

Continent :



Type de relief

Altitude :

Relief :

Climat

Température moyenne Précipitations Amplitude thermique

Zone climatique :

Végétation :

Description de l'habitat et matériaux utilisés

Nom de l'habitat :

.....
.....
.....
.....
.....
.....
.....

Population : Nomade / Sédentaire

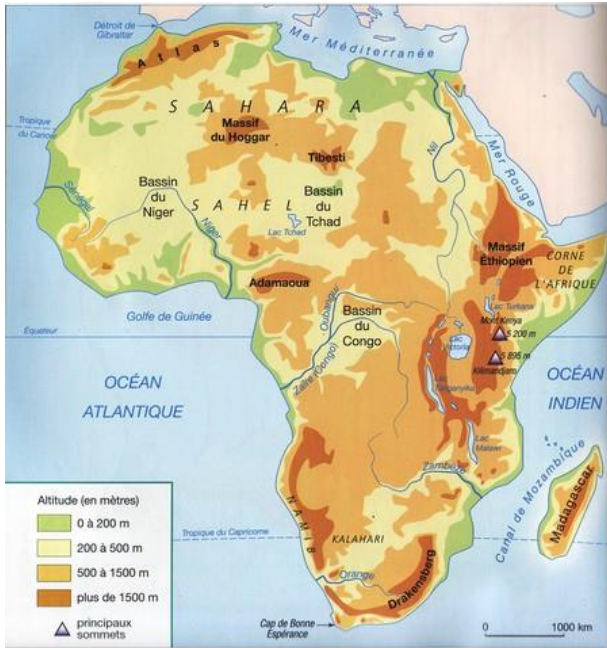
Nous venons de réaliser ensemble la démarche pour analyser les types d'habitats. Analysons les quatre autres types d'habitats.

b. Le cas de la Namibie

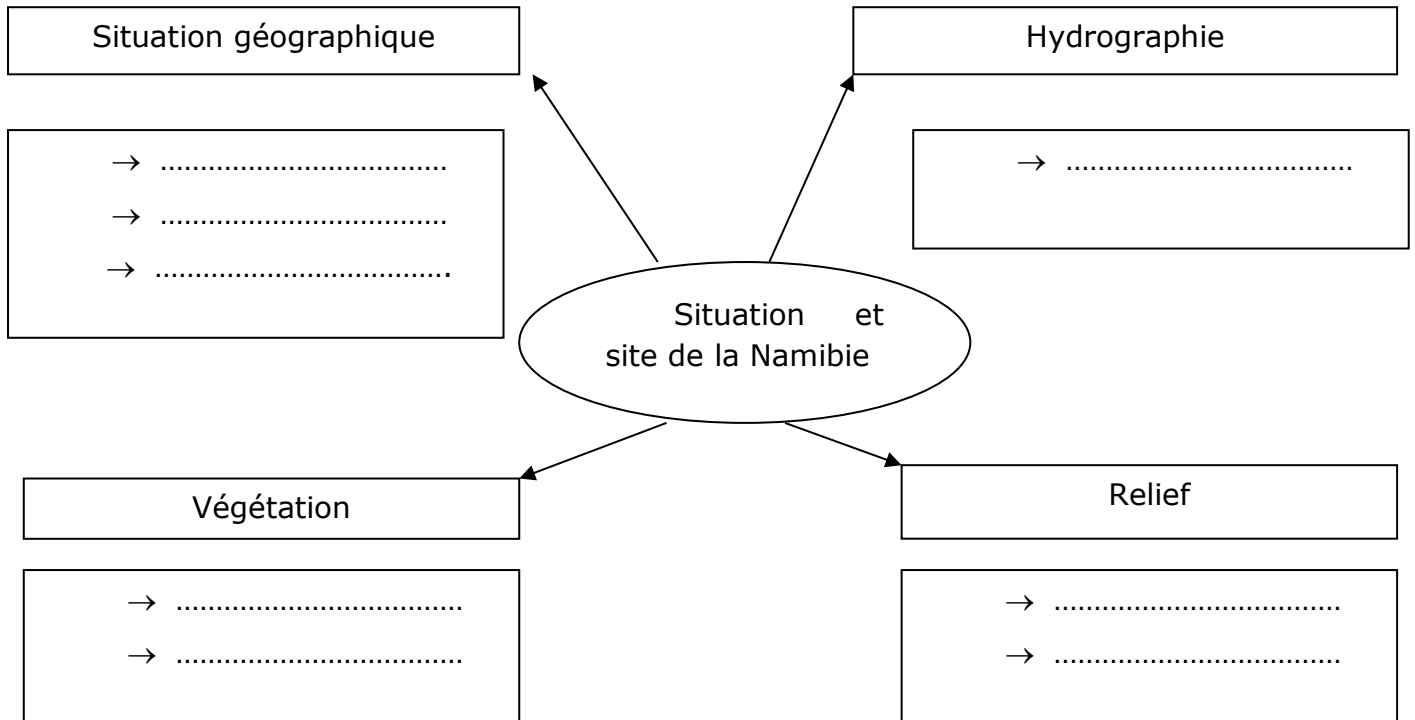
1. Localisation

Doc. 1 : Le relief de l'Afrique

Doc. 2 : Localisation de la Namibie



- Entoure sur le document 1 la Namibie (approximativement).
- 2. Sur base de ton atlas et de ton corpus documentaire, complète la carte conceptuelle relative à la Namibie.



3. Entoure sur ton document 3 les cinq mois les plus secs.
4. Visionne les extraits vidéo pour compléter la fiche d'identité de l'habitat n°2
5. Localise l'habitat en page 5.


Habitat n°2

Localisation

Ville ou région :

Pays :

Continent :



Type de relief

Altitude :

Relief :

Climat

Température moyenne Précipitations Amplitude thermique

Zone climatique :

Végétation :

Description de l'habitat et matériaux utilisés

Nom de l'habitat :

.....

.....

.....

.....

.....

.....

.....

Population : Nomade / Sédentaire

c. Le cas de la Suède
1. Localisation

Doc. 1 : Relief de l'Europe

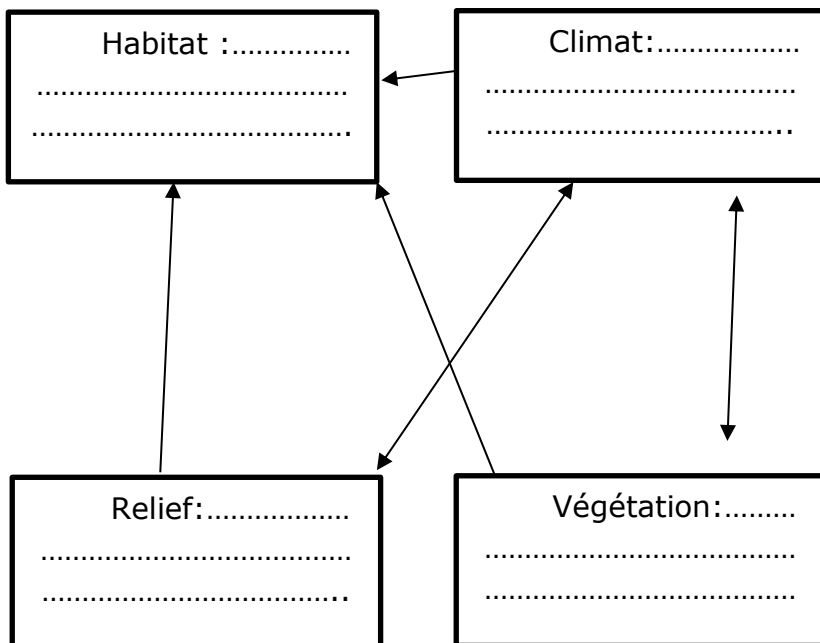


Doc. 2 : Le réseau hydrographique en Suède



http://www.cartograf.fr/continent/img/carte_europe_relief.gif

- Entoure la Suède sur le document 1 (approximativement).
 - Mets en évidence (fluo, couleurs) les éléments se rapportant au relief dans le document 3.
 - Souligne les deux points culminants de la chaîne de montagne.
 - Complète la fiche d'identité et localise l'habitat en page 5.
2. Complète le schéma et commente les liens.



.....

.....

.....

.....

.....

.....

.....

.....

.....

.....

.....

.....

Habitat n°3

Localisation

Ville ou région :

Pays :

Continent :



Type de relief

Altitude :

Relief :

Climat

Température moyenne Précipitations Amplitude thermique

Zone climatique :

Végétation :

Description de l'habitat et matériaux utilisés

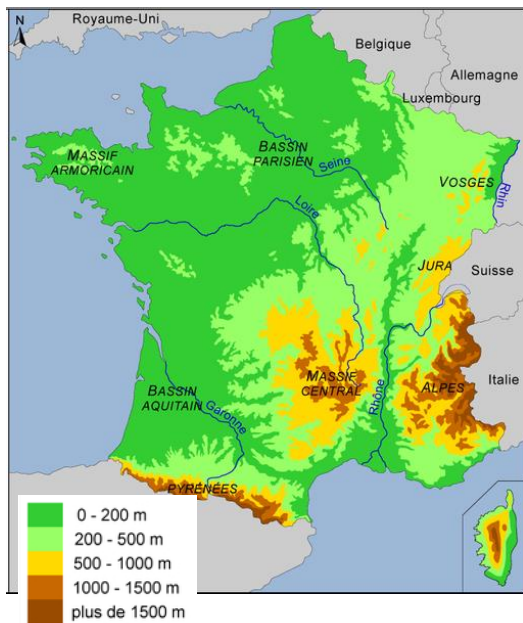
Nom de l'habitat :

.....
.....
.....
.....
.....
.....
.....

Population : Nomade / Sédentaire

d. Le cas de la Haute-Savoie
1. Localisation

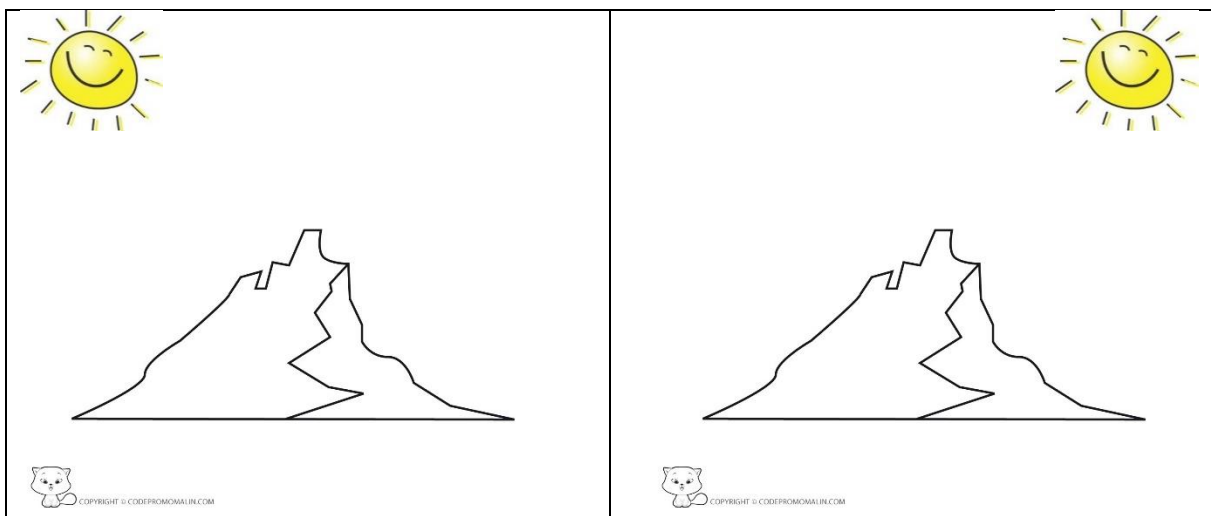
Doc 1 : Le relief de la France



Doc 2 : Les départements de France



- Entoure sur le document 1 le département de la Haute-Savoie.
- 2. Coche la bonne réponse : Dans quelle chaîne de montagne se situe la Haute-Savoie ?
 - Les Alpes
 - Les Alpes scandinaves
 - Les Pyrénées
- 3. Représente par une croix l'adret (en vert) et l'ubac (en noir).



- Vaut-il mieux construire son chalet sur l'adret ou sur l'ubac ? Pourquoi ?

.....

.....

4. Complète la fiche d'identité et localise le milieu en page 5.

Habitat n°4

Localisation

Ville ou région :

Pays :

Continent :



Type de relief

Altitude :

Relief :

Climat

Température moyenne Précipitations Amplitude thermique

Zone climatique :

Végétation :

Description de l'habitat et matériaux utilisés

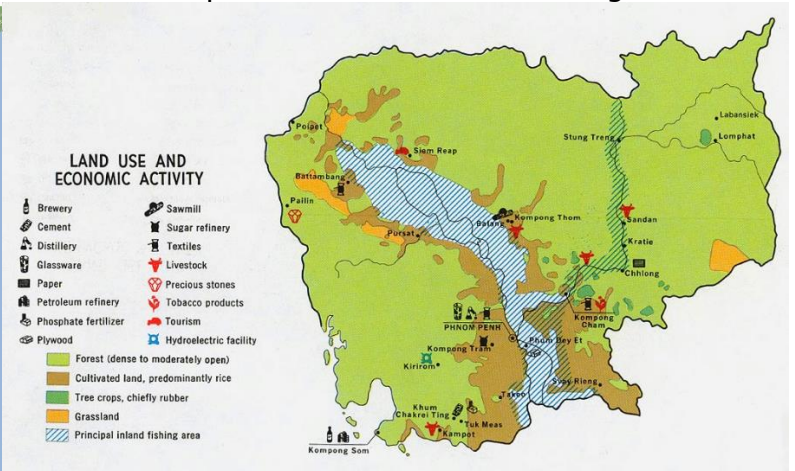
Nom de l'habitat :

.....
.....
.....
.....
.....
.....
.....

Population : Nomade / Sédentaire

e. Le cas du Cambodge
1. Localisation

Doc. 1 : L'hydrographie du Cambodge Doc. 2 : La répartition du sol au Cambodge

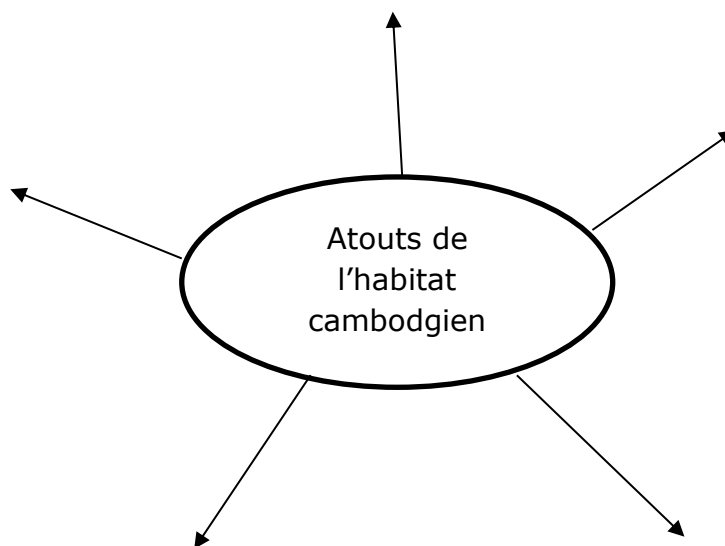


<http://www.africanwater.org/images/MekongMap.jpg>

<https://i2.wp.com/cambodge.redtac.org/wp-content/uploads/2014/11/carte-cambodge-economie-cambodgienne.png>

- Repasse dans sa couleur conventionnelle l'élément naturel sur les deux documents ci-dessous.
Nomme-le :

2. Réalise une carte conceptuelle mettant en avant les atouts de l'habitat cambodgiens étudié.



3. Complète la fiche d'identité de l'habitat n°5 et localise-le sur page 5.

Habitat n°5

Localisation

Ville ou région :

Pays :

Continent :



Type de relief

Altitude :

Relief :

Climat

Température moyenne Précipitations Amplitude thermique

Zone climatique :

Végétation :

Description de l'habitat et matériaux utilisés

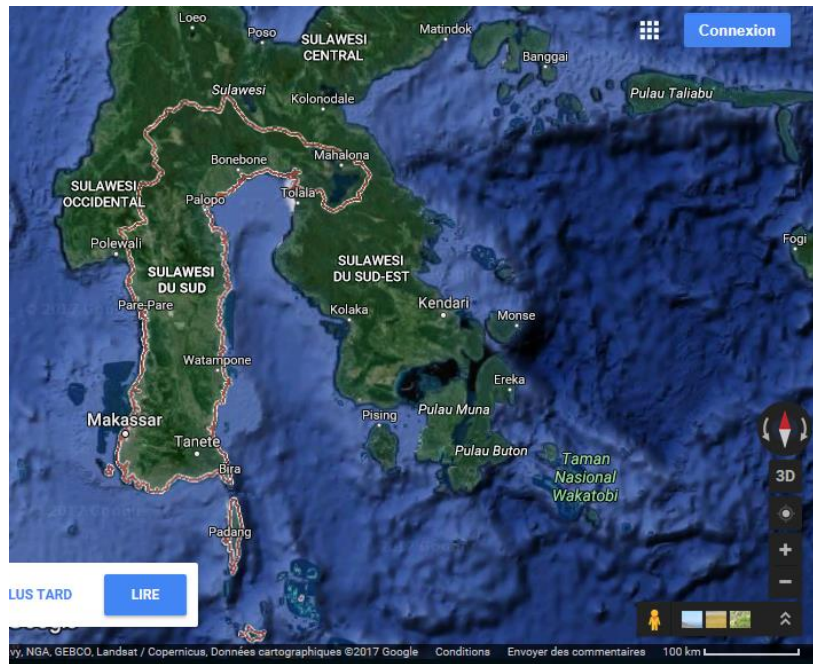
Nom de l'habitat :

.....
.....
.....
.....
.....
.....
.....

Population : Nomade / Sédentaire

f. Le cas des Torajas

1. Localisation



a) Dans quel continent se situe le Sulawesi du Sud (Région d'Indonésie)?

.....

2. Décris la situation du Sulawesi du Sud

.....
.....
.....
.....

3. Complète la fiche d'identité de l'habitat n°6 et localise-le sur page 5.

Habitat n°6

Localisation

Ville ou région :

Pays :

Continent :



Type de relief

Altitude :

Relief :

Climat

Température moyenne Précipitations Amplitude thermique

Zone climatique :

Végétation :

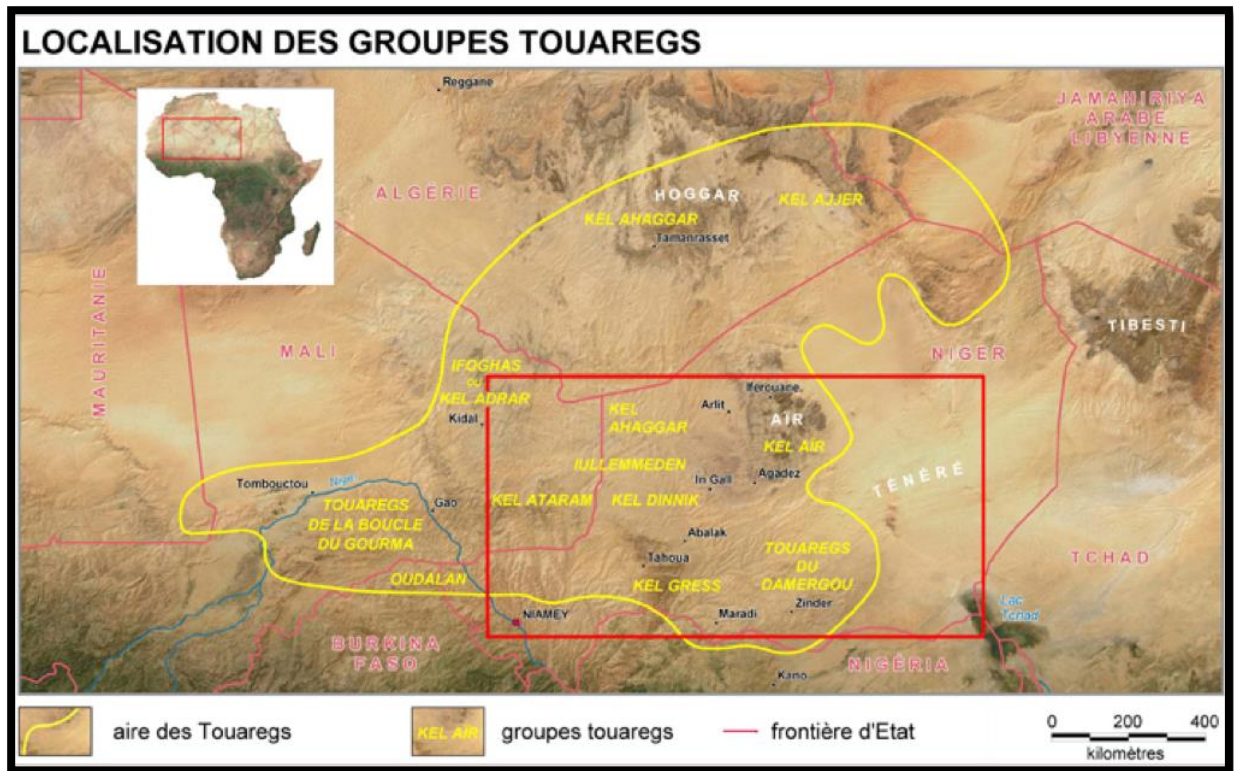
Description de l'habitat et matériaux utilisés

Nom de l'habitat :

.....
.....
.....
.....
.....
.....
.....
.....
.....

Population : Nomade / Sédentaire

g. Le cas des Touaregs
1. Localisation



<http://2.bp.blogspot.com/-bak-eh03arw/VSVyrRh9R6I/AAAAAAAAALW0/fAf7DE4rSew/s1600/Localisation%2BTouaregs.png>

2. Situation des Touaregs
a) Décris la situation des Touaregs

.....

.....

.....

3. Localise le milieu 7 à la page 5.

Habitat n°7

Localisation

Ville ou région :

Pays :

Continent :



Type de relief

Altitude :

Relief :

Climat

Température moyenne Précipitations Amplitude thermique

Zone climatique :

Végétation :

Description de l'habitat et matériaux utilisés

Nom de l'habitat :

.....
.....
.....
.....
.....
.....
.....
.....
.....

Population : Nomade / Sédentaire

IV. Contraintes naturelles et adaptation de l'homme

a. Complète le tableau à l'aide des fiches d'identité

Milieux	Contraintes naturelles	Adaptation de l'homme
Poupehan
Namibie
Suède
Haute-Savoie
Cambodge

Torajas
Touaregs