

# Les 4 opérations


J'ai 4 ballons rouges et j'en reçois 2 jaunes de plus. Combien ai-je de ballons ?

$$\dots + \dots = \dots$$



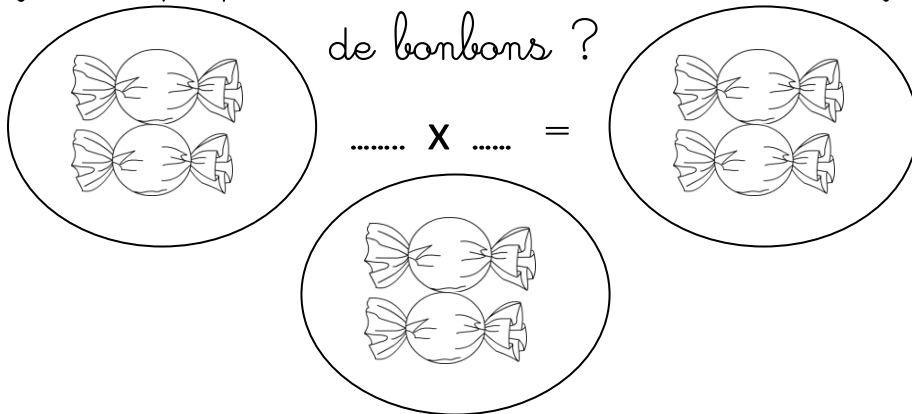
J'avais 3 pommes, j'en ai mangé 1. Combien m'en reste-t-il ?

$$\dots - \dots = \dots$$




J'ai 3 paquets de 2 bonbons. Combien ai-je de bonbons ?

$$\dots \times \dots = \dots$$



J'ai 9 bonbons que je partage entre deux amis et moi-même. Combien de bonbons aurons-nous chacun ?

$$\dots : \dots = \dots$$



L'addition

La soustraction

La  
multiplication

La division

