


Prénom :


LES NOMBRES JUSQU'À 10 : DEVOIR

1. Compte le nombre de lapins.



Il y alapins.

2. Fais des ensembles de 5 et complète la phrase.



Il y aensembles de 5 poissons et il en reste... .

Prénom :


LES NOMBRES JUSQU'À 20 : DEVOIR

1. Effectue les calculs suivants :

$14+3 = \dots$	$17-6=\dots$	$20-4=\dots$
$8+5=\dots$	$7+2=\dots$	$10-4=\dots$
$3+8=\dots$	$1+8=\dots$	$12+5=\dots$

2. Dessine le problème suivant :

Exemple : j'avais 3 pommes, j'en ai mangée 1. Il m'en reste 2.



- J'avais 4 fleurs dans un vase. Maman m'en donne 3 de plus. J'en ai